

государственное бюджетное общеобразовательное учреждение Самарской области средняя общеобразовательная школа №3 городского округа Чапаевск Самарской области

| | | |
|---------------------------------------------------------------------------------------------------------------------------------------------------------------------------|-----------------------------------------------------------------------------------------------------|-----------------------------------------------------------------------------------------------------------------------------|
| «РАССМОТРЕНО» на заседании МО протокол №1 от «20»08. 2020г руководители: <i>И.В.Овчина</i> <i>А.И.Тумурева</i> <i>И.А.Майорова</i> <i>А.В.Рыкова</i> | «ПРОВЕРЕНО» заместитель директора по УВР <i>Р.У.</i> <i>Н.Н.Рачейская</i> «20»08. 2020г | «УТВЕРЖДАЮ» директор ГБОУ СОШ №3 г.о. Чапаевск <i>Кочеткова Е.А.</i> Кочеткова приказ №28-од от «20»08. 2020 |
|---------------------------------------------------------------------------------------------------------------------------------------------------------------------------|-----------------------------------------------------------------------------------------------------|-----------------------------------------------------------------------------------------------------------------------------|

ИТОГОВАЯ КОНТРОЛЬНАЯ РАБОТА

ПО ИСТОРИИ В ФОРМАТЕ ГИА

11 КЛАСС

1. Расположите в хронологической последовательности исторические события. Запишите цифры, которыми обозначены исторические события, в правильной последовательности в таблицу.

- 1) Крымская война
- 2) реформа патриарха Никона
- 3) падение Византийской империи

2. Установите соответствие между событиями и годами: к каждой позиции первого столбца подберите соответствующую позицию из второго столбца.

СОБЫТИЯ

- А) первое упоминание Москвы в летописи
- Б) Карибский кризис
- В) Бородинская битва
- Г) Медный бунт

ГОДЫ

- 1) 988 г.
- 2) 1147 г.
- 3) 1662 г.
- 4) 1812 г.
- 5) 1939 г.
- 6) 1962 г.

3. Ниже приведён список терминов. Все они, за исключением двух, относятся к событиям (явлениям) XIX в.

1) *вольные хлебопашцы*; 2) *министерства*; 3) *декабристы*; 4) *третьеиюньский переворот*; 5) *мировые судьи*; 6) *октябристы*

Найдите и запишите порядковые номера терминов, относящихся к другому историческому периоду.

4. Запишите термин, о котором идёт речь.

Основная часть территории России, не включённая в опричнину Иваном IV.

5. Установите соответствие между процессами (явлениями, событиями) и фактами, относящимися к этим процессам (явлениям, событиям): к каждой позиции первого столбца подберите соответствующую позицию из второго столбца.

ПРОЦЕССЫ (ЯВЛЕНИЯ, СОБЫТИЯ)

- А) формирование и развитие законодательства Древнерусского государства
- Б) реформы «Избранной рады»
- В) проведение политики «просвещённого абсолютизма» в России
- Г) первые революционные преобразования большевиков

ФАКТЫ

- 1) созыв Уложенной комиссии
- 2) принятие Судебника Ивана III
- 3) созыв первого Земского собора
- 4) принятие Декрета о земле
- 5) принятие Русской Правды
- 6) создание Временного правительства

Запишите в ответ цифры, расположив их в порядке, соответствующем буквам:

| | | | |
|---|---|---|---|
| А | Б | В | Г |
| | | | |

6. Установите соответствие между фрагментами исторических источников и их краткими характеристиками: к каждому фрагменту, обозначенному буквой, подберите по две соответствующие характеристики, обозначенные цифрами.

ФРАГМЕНТЫ ИСТОЧНИКОВ

А) «Дворы, между коими заключён Парижский трактат... вместе с прочими государями и державами, им союзными... повелели своим полномочным составить... один главный трактат и присоединить к оному как неотдельные части все прочие положения конгресса.

...Герцогство Варшавское, за исключением тех областей и округов, коим в нижеследующих статьях положено иное назначение, навсегда присоединяется к Российской империи. Оно в силу своей конституции будет в неразрывной с Россией связи и во владении его величества императора всероссийского, наследников его и преемников на вечные времена. Его императорское величество предполагает даровать, по своему благоусмотрению, внутреннее устройство сему государству, имеющему состоять под особенным управлением. Его величество сообразно с существующим в рассуждении прочих его титулов обычаем и порядком присовокупит к оным и титул царя (короля) польского».

Б) «Его королевское величество Свейское уступает сим за себя и своих потомков и наследников свейского престола и королевства Свейского его царскому величеству и его потомкам и наследникам Российского государства в совершенное неприкословное вечное впадение и собственность в сей войне, чрез его царское величество оружия от короны Свейской завоёванные провинции: Лифляндию, Эстляндию, Ингерманландию и часть Карелии с дистриктом Выборгского лена.

...Против того же его царское величество обещает в 4 недели по размене ратификаций о сем мирном трактате или прежде, ежели возможно, его королевскому величеству и короне Свейской возвратить... Великое княжество Финляндское...».

ХАРАКТЕРИСТИКИ

- 1) Данный договор был подписан в Берлине.
- 2) По данному договору Россия получила выход к Балтийскому морю.
- 3) Данный договор был подписан в Вене.

- 4) Современником подписания данного договора был А. Л. Ордин-Нащокин.
- 5) Данный договор был подписан по результатам Северной войны.
- 6) На территории, присоединённой к России по данному договору, в начале 1830-х гг. произошло мощное восстание.

| Фрагмент А | | Фрагмент Б | |
|------------|--|------------|--|
| | | | |

7. Что из перечисленного относится к новой экономической политике (1921–1929 гг.)? Выберите три ответа и запишите в таблицу цифры, под которыми они указаны.

- 1) утверждение частной собственности на землю
- 2) введение хозрасчёта на государственных предприятиях
- 3) денационализация тяжёлой промышленности
- 4) появление кредитно-банковской системы и бирж
- 5) отмена государственной монополии внешней торговли
- 6) введение концессий

8. Заполните пропуски в данных предложениях, используя приведённый ниже список пропущенных элементов: для каждого предложения, обозначенного буквой и содержащего пропуск, выберите номер нужного элемента.

- А) _____ конференция «Большой тройки» проходила в 1943 г.
- Б) Первый таран в ночном воздушном бою произвёл советский лётчик _____, сбивший на подступах к Москве вражеский бомбардировщик.
- В) В ходе Курской битвы произошло крупнейшее танковое сражение у _____.

Пропущенные элементы:

- 1) Ялтинская (Крымская)
- 2) Н. Ф. Гастелло
- 3) станция Прохоровка
- 4) Тегеранская
- 5) В. В. Талалихин
- 6) разъезд Дубосеково

Запишите в ответ цифры, расположив их в порядке, соответствующем буквам:

| А | Б | В |
|---|---|---|
| | | |

9. Установите соответствие между событиями и участниками этих событий: к каждой позиции первого столбца подберите соответствующую позицию из второго столбца.

СОБЫТИЯ

- А) Ледовое побоище
- Б) Ливонская война
- В) Полтавская битва
- Г) разгром армии П. Н. Врангеля в Крыму

УЧАСТНИКИ

- 1) А. А. Брусилов
- 2) Андрей Боголюбский
- 3) А. М. Курбский
- 4) Александр Невский
- 5) А. Д. Меншиков
- 6) М. В. Фрунзе

Запишите в ответ цифры, расположив их в порядке, соответствующем буквам:

| | | | |
|---|---|---|---|
| А | Б | В | Г |
| | | | |

10. Прочтите отрывок из воспоминаний и укажите фамилию автора.

«Я видел не только бесполезность, но и вред совмещения постов, и я даже ссылаясь: "Представьте моё положение, я критиковал Сталина за совмещение в одном лице двух таких ответственных постов в государстве и в партии, а теперь сам..." Выношу этот вопрос на суд историков. Сказалась моя слабость, а может быть, подтачивал меня внутренний червячок, ослабляя моё сопротивление. Ещё до того, как я стал Председателем Совета Министров СССР, Булганин внёс предложение назначить меня как первого секретаря ЦК КПСС Главнокомандующим вооружёнными силами. Тем более что в Президиуме ЦК военные вопросы, армия, вооружение относились к моей епархии. Это произошло без публикации в печати и было решено сугубо внутренним образом, на случай войны. Внутри вооружённых сил об этом известили высший командный состав».

11. Заполните пустые ячейки таблицы, используя приведённый ниже список пропущенных элементов: для каждого пропуска, обозначенного буквой, выберите номер нужного элемента.

| Век | Событие истории России | Событие истории зарубежных стран |
|-----------|-------------------------------------------------------|----------------------------------|
| XIX в. | _____ (А) | Создание Тройственного союза |
| _____ (Б) | Начало княжения в Киеве Владимира Мономаха | Третий крестовый поход |
| _____ (В) | Присоединение Псковской земли к Московскому княжеству | _____ (Г) |
| XVIII в. | _____ (Д) | _____ (Е) |

Пропущенные элементы:

- 1) принятие конституции США
- 2) XVI в.
- 3) гражданская война в Англии
- 4) окончание Столетней войны
- 5) присоединение Крыма к Российской империи
- 6) XII в.
- 7) XIV в.
- 8) отмена крепостного права в России
- 9) выступление М. Лютера с 95 тезисами, начало Реформации в Германии

Запишите в ответ цифры, расположив их в порядке, соответствующем буквам:

| | | | | | |
|---|---|---|---|---|---|
| А | Б | В | Г | Д | Е |
| | | | | | |

12. Прочтите отрывок из телеграммы военачальника.

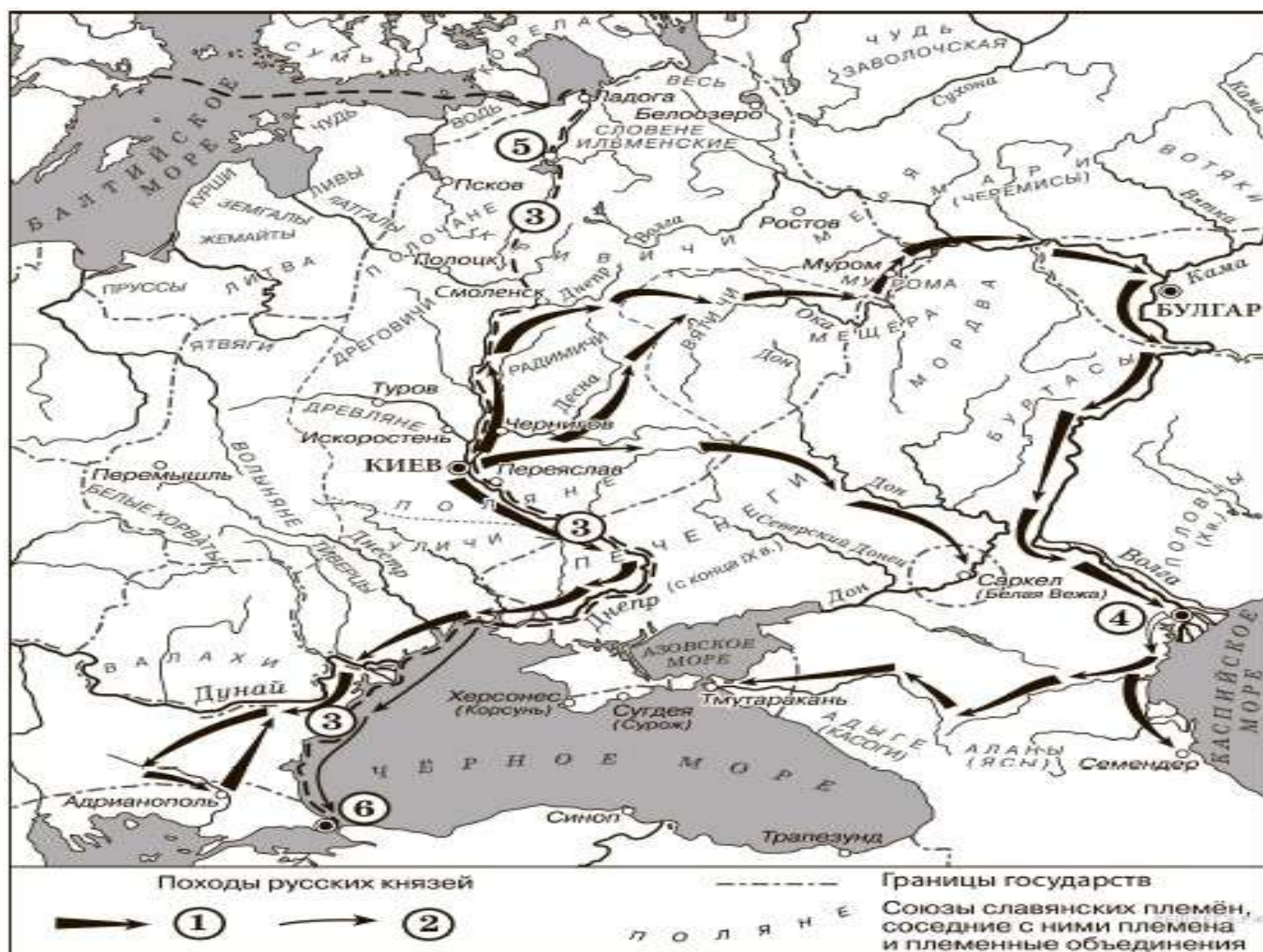
«Все отлично сознавали, что при создавшейся обстановке и при фактическом руководстве и направлении внутренней политики безответственными общественными организациями, а также громадного разлагающего влияния этих организаций на массу армии, последнюю воссоздать не

удастся, а наоборот, армия как таковая должна развалиться через два-три месяца. И тогда Россия должна будет заключить позорный сепаратный мир, последствия которого были бы для России ужасны. Правительство принимало полумеры, которые, ничего не поправляя, лишь затягивали агонию, и, спасая революцию, не спасало Россию. Между тем завоевания революции можно было спасти лишь путём спасения России, а для этого прежде всего, необходимо создать действительную сильную власть и оздоровить тыл. Генерал Корнилов предъявил ряд требований, проведение коих в жизнь затягивалось. При таких условиях генерал Корнилов, не преследуя никаких личных честолюбивых замыслов и опираясь на ясно выраженное сознание всей здоровой части общества и армии, требовавшее скорейшего создания крепкой власти для спасения Родины, а с ней и завоеваний революции, считал необходимыми более решительные меры, кои обеспечили бы водворение порядка в стране...»

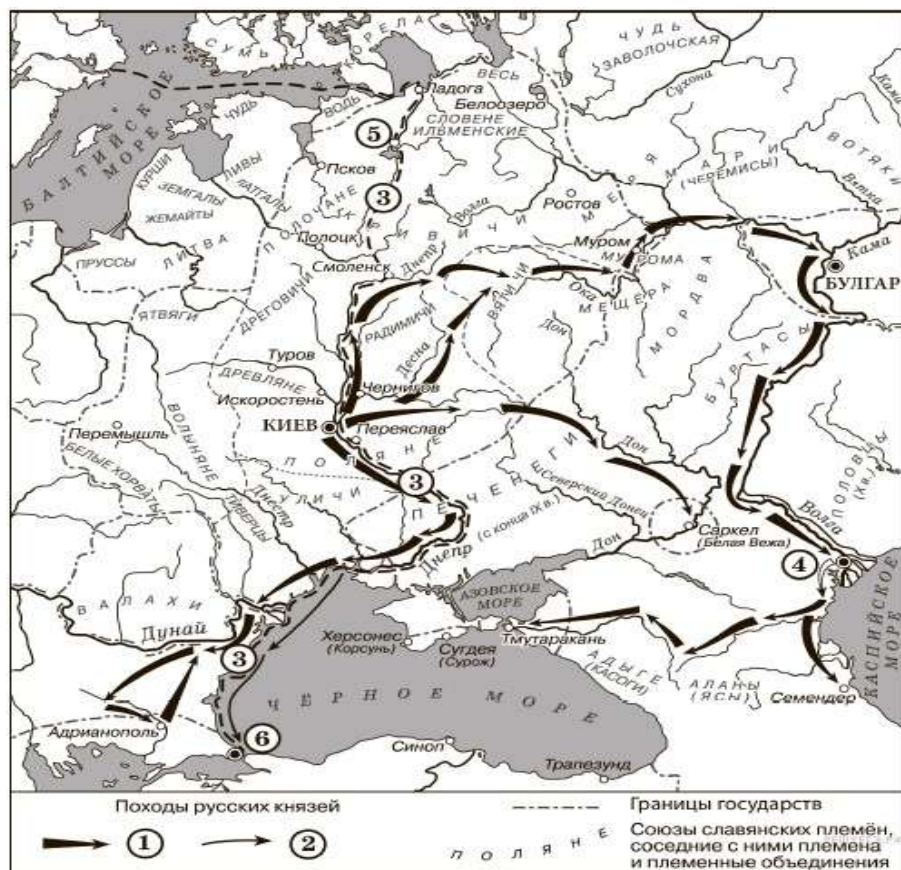
Используя отрывок и знания по истории, выберите в приведённом списке три верных суждения. Запишите в ответ цифры, под которыми они указаны.

- 1) Описанные в телеграмме события произошли в 1916 г.
- 2) Правительство, о котором идёт речь в телеграмме, называлось СНК.
- 3) Автор телеграммы — сторонник продолжения войны с Германией.
- 4) Автор телеграммы поддерживает действия генерала Корнилова.
- 5) Большевики поддерживали действия генерала Корнилова.
- 6) «Решительные меры» генерала Корнилова, которые указаны в телеграмме, не были осуществлены.

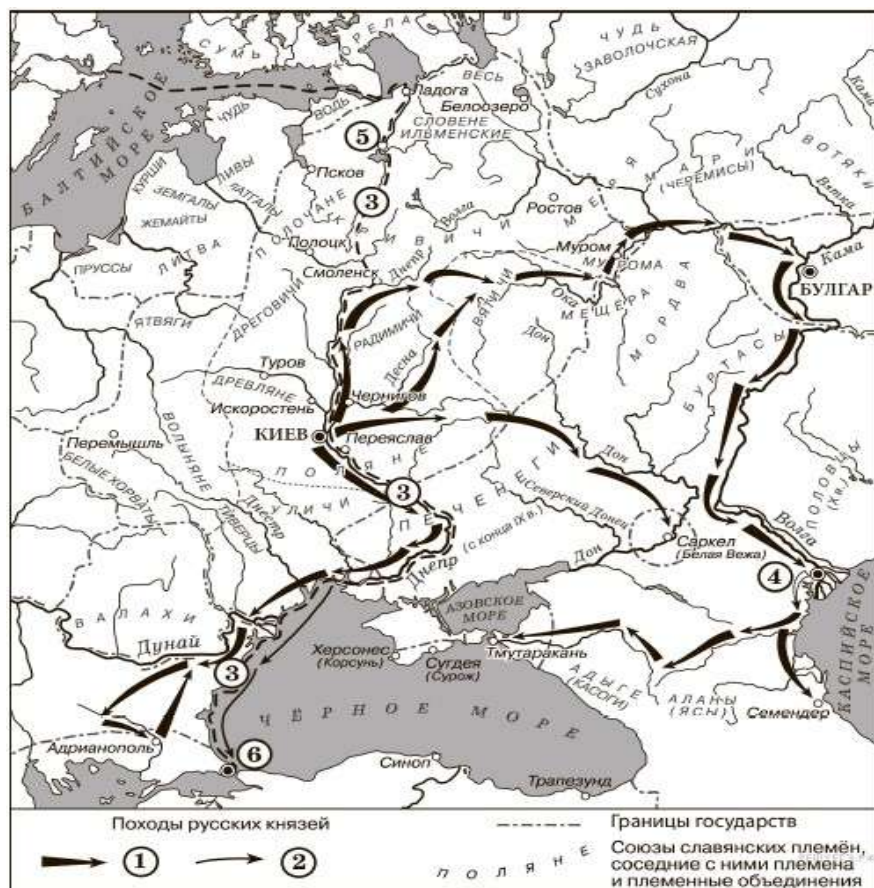
13. Укажите век, когда произошли события, обозначенные на схеме стрелками. Ответ запишите словом.



14. Укажите имя князя, походы которого обозначены в легенде схемы цифрой «1».

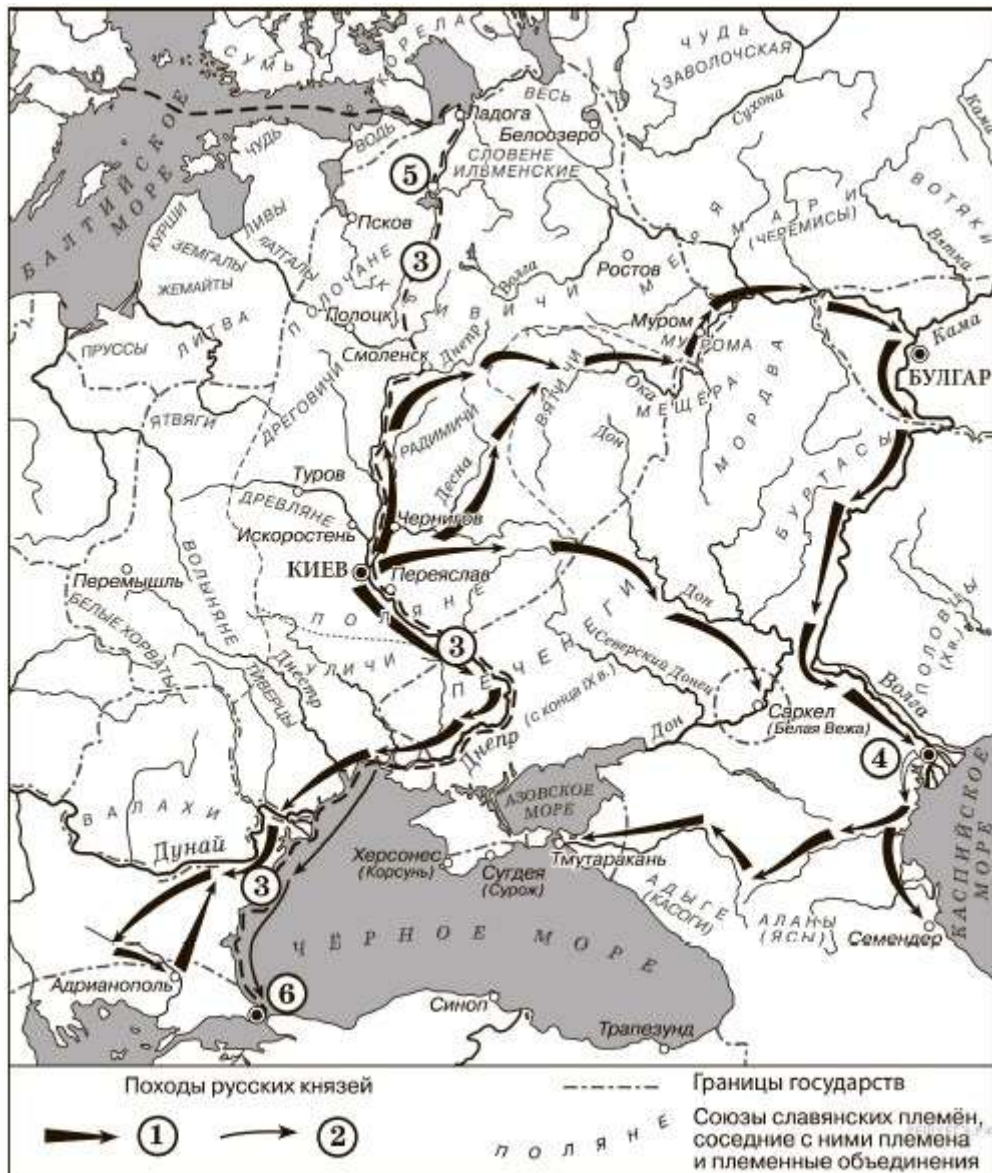


15. Укажите название торгового пути, обозначенного на схеме цифрой «3».



16. Какие суждения, относящиеся к событиям, обозначенным на схеме, являются верными? Выберите три суждения из шести предложенных. Запишите в таблицу цифры, под которыми они указаны.

Цифры укажите в порядке возрастания.



- 1) Цифрой «5» на схеме обозначен город Новгород.
- 2) В ходе событий, обозначенных на схеме стрелками, русское войско взяло город Перемышль.
- 3) В городе, обозначенном на схеме цифрой «6», согласно Повести временных лет, принял крещение киевский князь Владимир.
- 4) На схеме обозначен политико-административный центр восточнославянского племенного союза древлян.
- 5) Цифрой «4» на схеме обозначена столица Волжской Булгарии.
- 6) Киевский князь Олег совершил поход, обозначенный в легенде схемы цифрой «2».

17. Установите соответствие между памятниками культуры и их краткими характеристиками: к каждой позиции первого столбца подберите соответствующую позицию из второго столбца.

ПАМЯТНИКИ КУЛЬТУРЫ

А) «Слово о полку Игореве»

ХАРАКТЕРИСТИКИ

1) Автор — И. Е. Репин.

- Б) «Домострой»
- В) картина «Боярыня Морозова»
- Г) роман «Тихий Дон»

- 2) Произведение было написано в период руководства СССР Л. И. Брежнева.
- 3) Автор — священник Сильвестр.
- 4) Описываемые события произошли в XII в.
- 5) Автору была присуждена Нобелевская премия.
- 6) Сюжет иллюстрирует события церковного раскола.

Запишите в ответ цифры, расположив их в порядке, соответствующем буквам:

| | | | |
|---|---|---|---|
| А | Б | В | Г |
| | | | |

18. Какие суждения о данной марке являются верными? Выберите два суждения из пяти предложенных. Запишите в таблицу цифры, под которыми они указаны.

- 1) Военный деятель, изображённый на марке, подвергся репрессиям.
- 2) Военный деятель, изображённый на марке, родился в период правления в России Николая II.
- 3) События, изображённые на марке стрелками, произошли в ходе Первой мировой войны.
- 4) Военный деятель, изображённый на марке, был участником Великой Отечественной войны.
- 5) Данная марка была выпущена в период руководства СССР Н. С. Хрущёва.



19. Какие из представленных монет посвящены юбилеям событий, произошедших при жизни военного деятеля, изображённого на марке? В ответе запишите две цифры, которыми обозначены эти монеты.





20. Укажите название периода истории СССР, о событиях которого идёт речь в данном отрывке. Укажите руководителя СССР в этот период. Укажите исторического деятеля, о смерти которого идёт речь в отрывке.

Прочтите отрывок из исторического источника и кратко ответьте на вопросы 20–22. Ответы предполагают использование информации из источника, а также применение исторических знаний по курсу истории соответствующего периода.

Из воспоминаний политического деятеля.

«Второй Съезд народных депутатов СССР по накалу страстей, митинговой активности депутатов мало чем отличался от первого, но всё же накопленный опыт, подготовительная работа позволили придать ему большую организованность и деловитость...

За две недели Съезд заслушал и обсудил доклад Рыжкова о мерах по оздоровлению экономики, этапах экономической реформы и принципиальных подходах к разработке тринадцатого пятилетнего плана, принял Закон об изменениях и дополнениях Конституции по вопросам избирательной системы в связи с предстоящими выборами народных депутатов в республиках и на местах...

...К тому моменту активная позиция в реформировании и оздоровлении экономики была в значительной степени утрачена: не выработанная центром стратегия задавала тон, а, наоборот, планы и действия центра приравнивались к спонтанным экономическим процессам и популистским требованиям. Программа экономических реформ 1987 года фактически оказалась похороненной, о ней вспоминали всё реже. Главное же, был выпущен из рук контроль за наличной денежной массой, за денежными доходами населения, дан сильнейший толчок раскручиванию инфляционной спирали, остановить который дальше оказалось всё труднее.

Доклад Правительства подвергся на Съезде ожесточённой критике, и не только со стороны оппозиционно настроенных депутатов. [Руководитель страны], естественно, защищал его. Началась очень трудная для Правительства полоса. В печати, на съездах и сессиях Верховного Совета постоянно маячил вопрос об отставке Правительства... Но главное, конечно, накатывающиеся волны забастовочного движения, вызываемые прежде всего дезорганизацией рынка, товарного и денежного обращения, острой нехваткой самого необходимого для людей...

Работа Съезда была омрачена кончиной [выдающегося исторического деятеля]. 15 декабря не стало этого выдающегося, неповторимого человека. Огромная потеря не только для науки, но и для человеческой цивилизации в целом, для демократического процесса в стране. Об этом я говорю с полной ответственностью и откровенностью, несмотря на то, а может быть, именно поэтому, что академик стоял в оппозиции к тогдашнему партийно-государственному

руководству, оказывал лишь, как он сам говорил, условную поддержку [руководителю страны], не спуская ему ни одного, с его точки зрения, ошибочного или опрометчивого шага».

21. Какие факты, свидетельствующие о наступлении социально-экономического и политического кризиса в стране, называет автор? Укажите любые три факта.

При ответе избегайте цитирования избыточного текста, не содержащего положений, которые должны быть приведены по условию задания.

22. Укажите название партийного органа, созданного впервые после 1941 г., в решениях которого были заложены основы преобразований политической системы страны. Какие политические решения были приняты следующим после названного в отрывке Съездом народных депутатов? Укажите два решения.

23. Процесс политической раздробленности русских земель в XII–XIII вв. сопровождался упадком роли и значения земель Среднего Поднепровья — исторического ядра Древнерусского государства — в политической и экономической жизни Руси. Назовите любые три причины этого упадка.

24. В исторической науке существуют дискуссионные проблемы, по которым высказываются различные, часто противоречивые точки зрения. Ниже приведена одна из спорных точек зрения, существующих в исторической науке.

«Внутренняя политика Александра III способствовала прогрессивному развитию социальной и экономической сфер общественной жизни».

Используя исторические знания, приведите два аргумента, которыми можно подтвердить данную точку зрения, и два аргумента, которыми можно опровергнуть её. При изложении аргументов обязательно используйте исторические факты.

Ответ запишите в следующем виде.

Аргументы в подтверждение:

1) ...

2) ...

Аргументы в опровержение:

1) ...

2) ...

25.

Вам необходимо написать историческое сочинение об ОДНОМ из исторических процессов:

1) борьба Древнерусского государства с кочевниками;

2) внешняя политика России в 1689–1725 гг.;

3) Гражданская война в России после прихода большевиков к власти.

В сочинении необходимо:

– указать не менее двух значимых событий (явлений, процессов), произошедших в рамках выбранного Вами процесса;

– назвать две исторические личности, деятельность которых связана с указанными Вами событиями (явлениями, процессами), произошедшими в рамках выбранного процесса, и, используя знание исторических фактов, охарактеризовать роли названных Вами личностей в этих событиях (явлениях, процессах);

В н и м а н и е!

При характеристике роли каждой названной Вами личности необходимо указать конкретные действия этой личности, в значительной степени повлиявшие на ход и (или) результат указанных событий (процессов, явлений).

– указать не менее двух причинно-следственных связей, характеризующих причины возникновения указанных Вами событий (явлений, процессов), произошедших в рамках выбранного процесса;

– используя знание исторических фактов, указать значение (последствие) выбранного Вами процесса для истории России.

В ходе изложения необходимо корректно использовать исторические термины, понятия, относящиеся к выбранному Вами процессу.

ПЛАН ИТОГОВОЙ КОНТРОЛЬНОЙ РАБОТЫ ПО ИСТОРИИ В ФОРМАТЕ ГИА

Работа состоит из 25 заданий: заданий базового уровня сложности 16, повышенного — 8, высокого — 7.

Заданий с кратким ответом — 19, с развернутым ответом — 6.

Обозначение уровня сложности задания: Б — базовый, П — повышенный, В — высокий.

| Проверяемые элементы содержания и виды деятельности | Уровень сложности задания | Максимальный балл за выполнение задания |
|------------------------------------------------------------------------------------------------------------------------------------------------------------------------------------------|---------------------------|-----------------------------------------|
| Задание 1. С древнейших времён до начала XXI в. (история России, история зарубежных стран). Систематизация исторической информации (умение определять последовательность событий) | П | 1 |
| Задание 2. VIII – начало XXI в. Знание дат (задание на установление соответствия) | Б | 2 |
| Задание 3. Один из периодов, изучаемых в курсе истории России (VIII – начало XXI в.) Определение терминов (множественный выбор) | Б | 2 |
| Задание 4. Один из периодов, изучаемых в курсе истории России (VIII – начало XXI в.) Определение термина по нескольким признакам | Б | 1 |
| Задание 5. VIII – начало XXI в. Знание основных фактов, процессов, явлений (задание на установление соответствия) | Б | 2 |
| Задание 6. VIII – 1914 г. Работа с текстовым историческим источником (задание на установление соответствия) | Б | 2 |
| Задание 7. Один из периодов, изучаемых в курсе истории России (VIII – начало XXI в.) Систематизация исторической информации (множественный выбор) | П | 2 |
| Задание 8. 1941–1945 гг. Знание основных фактов, процессов, явлений (задание на заполнение пропусков в предложениях) | Б | 2 |
| Задание 9. VIII – начало XXI в. Знание исторических деятелей (задание на установление соответствия) | Б | 2 |
| Задание 10. 1914–2012 гг. Работа с текстовым историческим источником (краткий ответ в виде слова, словосочетания) | Б | 1 |

| | | |
|------------------------------------------------------------------------------------------------------------------------------------------------------------------------------------------------------|---|----|
| Задание 11. С древнейших времён до начала XXI в. (история России, история зарубежных стран). Систематизация исторической информации, представленной в различных знаковых системах (таблица) | П | 3 |
| Задание 12. Один из периодов, изучаемых в курсе истории России (VIII – начало XXI в.). Работа с текстовым историческим источником | П | 2 |
| Задание 13. Один из периодов, изучаемых в курсе истории России (VIII – начало XXI в.). Работа с исторической картой (схемой) | Б | 1 |
| Задание 14. Один из периодов, изучаемых в курсе истории России (VIII – начало XXI в.). Работа с исторической картой (схемой) | Б | 1 |
| Задание 15. Один из периодов, изучаемых в курсе истории России (VIII – начало XXI в.) Работа с исторической картой (схемой) | Б | 1 |
| Задание 16. Один из периодов, изучаемых в курсе истории России (VIII – начало XXI в.) Работа с исторической картой (схемой) | П | 2 |
| Задание 17. VIII – начало XXI в. Знание основных фактов, процессов, явлений истории культуры России (задание на установление соответствия) | Б | 2 |
| Задание 18. VIII – начало XXI в. Анализ иллюстративного материала | П | 1 |
| Задание 19. VIII – начало XXI в. Анализ иллюстративного материала | Б | 1 |
| Задание 20. VIII – начало XXI в. Характеристика авторства, времени, обстоятельств и целей создания источника | П | 2 |
| Задание 21. VIII – начало XXI в. Умение проводить поиск исторической информации в источниках разного типа | Б | 2 |
| Задание 22. VIII – начало XXI в. Умение использовать принципы структурно-функционального, временного и пространственного анализа при работе с источником | В | 2 |
| Задание 23. VIII – начало XXI в. Умение использовать принципы структурно-функционального, временного и пространственного анализа при рассмотрении фактов, явлений, процессов (задание-задача) | В | 3 |
| Задание 24. VIII – начало XXI в. Умение использовать исторические сведения для аргументации в ходе дискуссии | В | 5 |
| Задание 25. VIII – начало XXI в. (один из трёх исторических процессов по выбору экзаменуемого / | | 11 |

одна из трёх исторических личностей по выбору
экзаменуемого) Историческое сочинение

ПРЕДВАРИТЕЛЬНАЯ ШКАЛА 2021 ГОДА

| | | | | | | | | | | | | | | | | | | | | | | | | | | | | | | | | |
|-----------------------|---|---|---|----|----|----|----|----|----|----|----|----|----|----|----|----|----|----|----|----|----|----|----|----|----|----|----|----|----|----|----|----|
| Первичный балл | 0 | 1 | 2 | 3 | 4 | 5 | 6 | 7 | 8 | 9 | 10 | 11 | 12 | 13 | 14 | 15 | 16 | 17 | 18 | 19 | 20 | 21 | 22 | 23 | 24 | 25 | 26 | 27 | 28 | 29 | | |
| Тестовый балл | 0 | 4 | 8 | 11 | 15 | 18 | 22 | 25 | 29 | 32 | 34 | 35 | 36 | 37 | 38 | 40 | 41 | 42 | 43 | 44 | 45 | 46 | 47 | 48 | 49 | 50 | 51 | 52 | 53 | 54 | 55 | 56 |

| | | | | | | | | | | | | | | | | | | | | | | | | | | | |
|-----------------------|----|----|----|----|----|----|----|----|----|----|----|----|----|----|----|----|----|----|----|----|----|----|----|----|----|----|-----|
| Первичный балл | 30 | 31 | 32 | 33 | 34 | 35 | 36 | 37 | 38 | 39 | 40 | 41 | 42 | 43 | 44 | 45 | 46 | 47 | 48 | 49 | 50 | 51 | 52 | 53 | 54 | 55 | 56 |
| Тестовый балл | 57 | 58 | 60 | 61 | 62 | 63 | 64 | 65 | 67 | 68 | 69 | 70 | 71 | 72 | 75 | 77 | 79 | 81 | 83 | 85 | 88 | 90 | 92 | 94 | 96 | 98 | 100 |