

государственное бюджетное общеобразовательное учреждение Самарской области средняя общеобразовательная школа №3 городского округа Чапаевск Самарской области

<p>«РАССМОТРЕНО» на заседании МО протокол №1 от «20»08. 2020г руководители: <u>И.В.Овчинникова</u> <u>А.И.Зумирова</u> <u>И.А.Майорова</u> <u>А.В.Рыкова</u></p>	<p>«ПРОВЕРЕНО» заместитель директора по УВР <u>Н.Н.Рачейская</u> «20»08. 2020г</p>	<p>«УТВЕРЖДАЮ» директор ГБОУ СОШ №3 г.о. Чапаевск <u>Е.А.Кочеткова</u> приказ №28-од от «20»08. 2020</p>
--	--	--

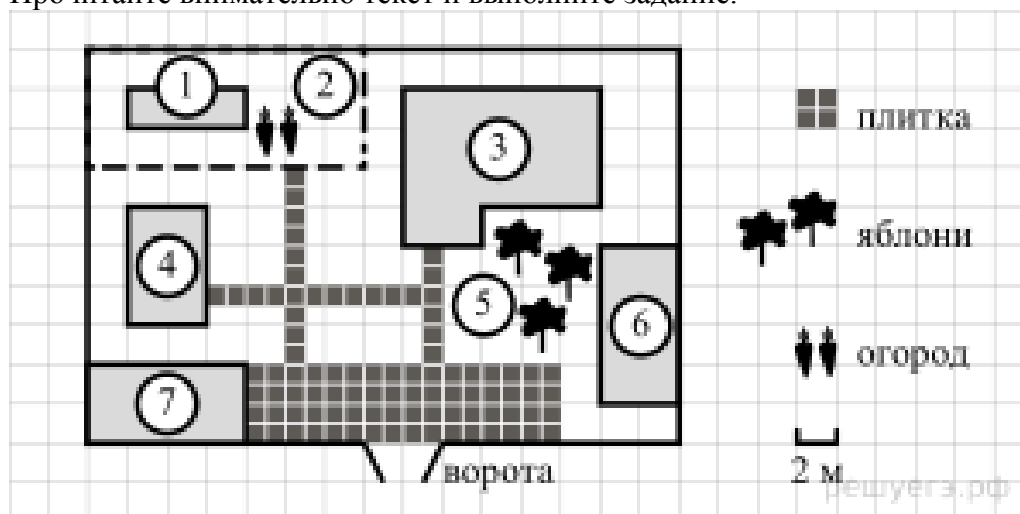
ИТОГОВАЯ КОНТРОЛЬНАЯ РАБОТА ПО МАТЕМАТИКЕ В ФОРМАТЕ ГИА

9 КЛАСС

1. Для объектов, указанных в таблице, определите, какими цифрами они обозначены на плане. Заполните таблицу, в ответ запишите последовательность четырёх цифр.

Объекты	жилой дом	сарай	баня	теплица
Цифры				

Прочитайте внимательно текст и выполните задание.



На плане изображено домохозяйство по адресу: с. Авдеево, 3-й Поперечный пер., д. 13 (сторона каждой клетки на плане равна 2 м). Участок имеет прямоугольную форму. Выезд и въезд осуществляются через единственные ворота.

При входе на участок справа от ворот находится баня, а слева — гараж, отмеченный на плане цифрой 7. Площадь, занятая гаражом, равна 32 кв. м.

Жилой дом находится в глубине территории. Помимо гаража, жилого дома и бани, на участке имеется сарай (подсобное помещение), расположенный рядом с гаражом, и теплица, построенная на территории огорода (огород отмечен цифрой 2). Перед жилым домом имеются яблоневые посадки.

Все дорожки внутри участка имеют ширину 1 м и вымощены тротуарной плиткой размером 1 м × 1 м. Между баней и гаражом имеется площадка площадью 64 кв. м, вымощенная такой же плиткой.

К домохозяйству подведено электричество. Имеется магистральное газоснабжение.

2. Тротуарная плитка продаётся в упаковках по 4 штуки. Сколько упаковок плитки понадобилось, чтобы выложить все дорожки и площадку перед гаражом?

3. Найдите площадь, которую занимает жилой дом. Ответ дайте в квадратных метрах.

4. Найдите расстояние от жилого дома до гаража (расстояние между двумя ближайшими точками по прямой) в метрах.

5. Хозяин участка планирует устроить в жилом доме зимнее отопление. Он рассматривает два варианта: электрическое или газовое отопление. Цены на оборудование и стоимость его установки, данные о расходе газа, электроэнергии и их стоимости даны в таблице.

	Нагреватель (котел)	Прочее оборудование и монтаж	Сред. расход газа / сред. потребл. мощность	Стоимость газа / электроэнергии
Газовое отопление	24 тыс. руб.	18 280 руб.	1,2 куб. м/ч	5,6 руб./куб. м
Электр. отопление	20 тыс. руб.	15 000 руб.	5,6 кВт	3,8 руб./(кВт · ч)

Обдумав оба варианта, хозяин решил установить газовое оборудование. Через сколько часов непрерывной работы отопления экономия от использования газа вместо электричества компенсирует разность в стоимости покупки и установки газового и электрического отопления?

6. Найдите значение выражения $\frac{1}{4} + 0,07$.

7. На координатной прямой отмечена точка A.



Известно, что она соответствует одному из четырех указанных ниже чисел. Какому из чисел соответствует точка A?

- 1) $\frac{181}{16}$
- 2) $\sqrt{37}$
- 3) 0,6
- 4) 4

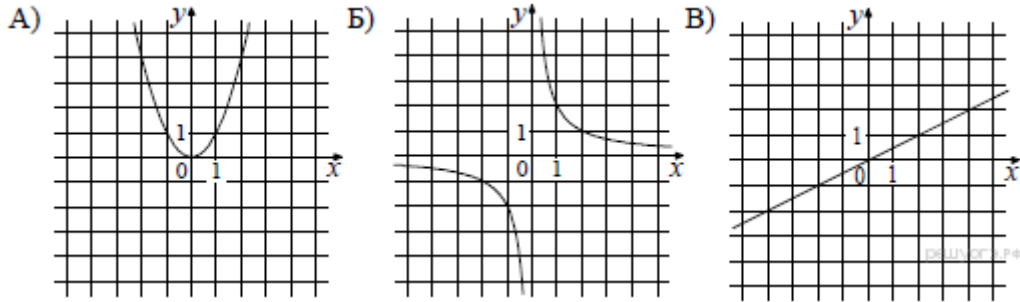
8. Найдите значение выражения $a^{-7} \cdot (a^5)^2$ при $a = 5$.

9. Решите уравнение $x^2 + x - 12 = 0$.

Если уравнение имеет более одного корня, в ответ запишите больший из корней.

10. На тарелке лежат пирожки, одинаковые на вид: 4 с мясом, 8 с капустой и 3 с яблоками. Петя наугад выбирает один пирожок. Найдите вероятность того, что пирожок окажется с яблоками.

11. Установите соответствие между графиками функций и формулами, которые их задают.



- 1) $y = x^2$
- 2) $y = \frac{x}{2}$
- 3) $y = \frac{2}{x}$

Ответ укажите в виде последовательности цифр без пробелов и запятых в указанном порядке.

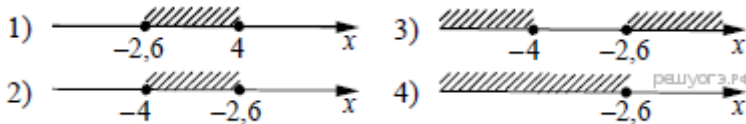
А	Б	В

12. Чтобы перевести значение температуры по шкале Цельсия в шкалу Фаренгейта, пользуются формулой $t_F = 1,8t_C + 32$, где t_C — температура в градусах Цельсия, t_F — температура в градусах Фаренгейта. Скольким градусам по шкале Фаренгейта соответствует -25 градусов по шкале Цельсия?

$$\begin{cases} x + 2,6 \leq 0, \\ x + 5 \geq 1. \end{cases}$$

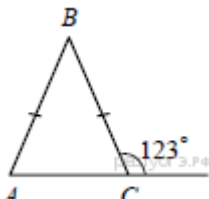
13. Решите систему неравенств

На каком рисунке изображено множество её решений?

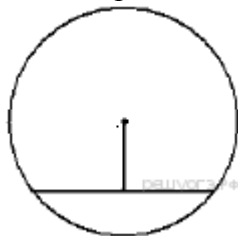


- 1) 1
- 2) 2
- 3) 3
- 4) 4

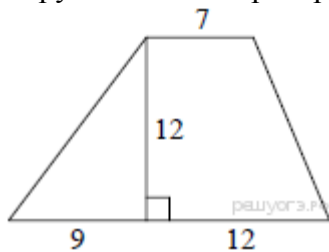
14. Вика решила начать делать зарядку каждое утро. В первый день она сделала 30 приседаний, а в каждый следующий день она делала на одно и то же количество приседаний больше, чем в предыдущий день. За 15 дней она сделала всего 975 приседаний. Сколько приседаний сделала Вика на пятый день?



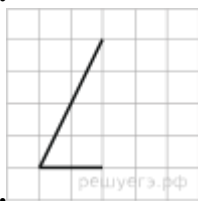
15. В равнобедренном треугольнике ABC с основанием AC внешний угол при вершине C равен 123° . Найдите величину угла BAC . Ответ дайте в градусах.



16. Найдите длину хорды окружности радиусом 13 см, если расстояние от центра окружности до хорды равно 5 см. Ответ дайте в см.



17. Найдите площадь трапеции, изображённой на рисунке.



18. Найдите тангенс острого угла, изображённого на рисунке.
 19. Какие из следующих утверждений верны?

- 1) Через точку, не лежащую на данной прямой, можно провести прямую, параллельную этой прямой.
- 2) Треугольник со сторонами 1, 2, 4 существует.
- 3) В любом параллелограмме есть два равных угла.

В ответ запишите номера выбранных утверждений без пробелов, запятых и других дополнительных символов.

20. Решите уравнение $x^4 = (4x - 5)^2$.

21. Рыболов в 5 часов утра на моторной лодке отправился от пристани против течения реки, через некоторое время бросил якорь, 2 часа ловил рыбу и вернулся обратно в 10 часов утра того же дня. На какое расстояние от пристани он отплыл, если скорость реки равна 2 км/ч, а собственная скорость лодки 6 км/ч?

$$y = \frac{x^4 - 13x^2 + 36}{(x - 3)(x + 2)}$$

22. Постройте график функции и определите, при каких значениях параметра c прямая $y = c$ имеет с графиком ровно одну общую точку.

23. В прямоугольном треугольнике ABC с прямым углом C известны катеты: $AC = 6$, $BC = 8$. Найдите медиану CK этого треугольника.

24. В параллелограмме $ABCD$ точка E — середина стороны AB . Известно, что $EC = ED$. Докажите, что данный параллелограмм — прямоугольник.

25. Основание AC равнобедренного треугольника ABC равно 12. Окружность радиуса 8 с центром вне этого треугольника касается продолжений боковых сторон треугольника и касается основания AC . Найдите радиус окружности, вписанной в треугольник ABC .

ПЛАН ИТОГОВОЙ КОНТРОЛЬНОЙ РАБОТЫ ПО МАТЕМАТИКЕ В ФОРМАТЕ ГИА

Всего заданий 25, из них: с кратким ответом — 19; заданий с развёрнутым ответом — 6.
Заданий базового уровня сложности 19, повышенного — 4, высокого — 2.
Работа рассчитана на 235 минут.

Обозначение уровня сложности задания: Б — базовый, П — повышенный.

Проверяемые элементы содержания и виды деятельности	Уровень сложности задания	Максимальный балл за выполнение задания
Задание 1. Уметь выполнять вычисления и преобразования, уметь использовать приобретенные знания и умения в практической деятельности и повседневной жизни, уметь строить и исследовать простейшие математические модели	Б	1
Задание 2. Уметь выполнять вычисления и преобразования, уметь использовать приобретенные знания и умения в практической деятельности и повседневной жизни, уметь строить и исследовать простейшие математические модели	Б	1
Задание 3. Уметь выполнять вычисления и преобразования, уметь использовать приобретенные знания и умения в практической деятельности и повседневной жизни, уметь строить и исследовать простейшие математические модели	Б	1
Задание 4. Уметь выполнять вычисления и преобразования, уметь использовать приобретенные знания и умения в практической деятельности и повседневной жизни, уметь строить и исследовать простейшие математические модели	Б	1
Задание 5. Уметь выполнять вычисления и преобразования, уметь использовать приобретенные знания и умения в практической деятельности и повседневной жизни, уметь строить и исследовать простейшие математические модели	Б	1
Задание 6. Уметь выполнять вычисления и преобразования	Б	1
Задание 7. Уметь выполнять вычисления и преобразования	Б	1
Задание 8. Уметь выполнять вычисления и преобразования, уметь выполнять преобразования алгебраических выражений	Б	1
Задание 9. Уметь решать уравнения, неравенства и их системы	Б	1
Задание 10. Уметь работать со статистической информацией, находить частоту и вероятность случайного события, уметь использовать приобретённые знания и умения в практической деятельности и повседневной жизни, уметь строить и	Б	1

исследовать простейшие математические модели		
Задание 11. Уметь строить и читать графики функций	Б	1
Задание 12. Осуществлять практические расчеты по формулам, составлять несложные формулы, выражающие зависимости между величинами	Б	1
Задание 13. Уметь решать уравнения, неравенства и их системы	Б	1
Задание 14. Уметь строить и читать графики функций, уметь использовать приобретённые знания и умения в практической деятельности и повседневной жизни, уметь строить и исследовать простейшие математические модели	Б	1
Задание 15. Уметь выполнять действия с геометрическими фигурами, координатами и векторами	Б	1
Задание 16. Уметь выполнять действия с геометрическими фигурами, координатами и векторами	Б	1
Задание 17. Уметь выполнять действия с геометрическими фигурами, координатами и векторами	Б	1
Задание 18. Уметь выполнять действия с геометрическими фигурами, координатами и векторами	Б	1
Задание 19. Проводить доказательные рассуждения при решении задач, оценивать логическую правильность рассуждений, распознавать ошибочные заключения	Б	1
Задание 20. Уметь выполнять преобразования алгебраических выражений, решать уравнения, неравенства и их системы, строить и читать графики функций	П	2
Задание 21. Уметь выполнять преобразования алгебраических выражений, решать уравнения, неравенства и их системы, строить и читать графики функций, строить и исследовать простейшие математические модели	П	2
Задание 22. Уметь выполнять преобразования алгебраических выражений, решать уравнения, неравенства и их системы, строить и читать графики функций, строить и исследовать простейшие математические модели	В	2
Задание 23. Уметь выполнять действия с геометрическими фигурами, координатами и векторами	П	2
Задание 24. Проводить доказательные рассуждения при решении задач, оценивать логическую правильность рассуждений, распознавать ошибочные заключения	П	2
Задание 25. Уметь выполнять действия с геометрическими фигурами, координатами и векторами	В	2

ШКАЛА ПЕРЕВОДА ОТМЕТОК

Отметка по пятибалльной шкале	«2»	«3»	«4»	«5»
Суммарный балл за работу в целом	0 – 7	8 – 14	15 – 21	22 – 31

Шкала пересчета суммарного балла за выполнение заданий, относящихся к разделу «Алгебра» в отметку по алгебре

Отметка по пятибалльной шкале	«2»	«3»	«4»	«5»
Суммарный балл за работу в целом	0 – 4	5 – 10	11 – 15	16 – 19

Шкала пересчета суммарного балла за выполнение заданий, относящихся к разделу «Геометрия» в отметку по геометрии

Отметка по пятибалльной шкале	«2»	«3»	«4»	«5»
Суммарный балл за работу в целом	0 – 2	3 – 4	5 – 7	8 – 12